

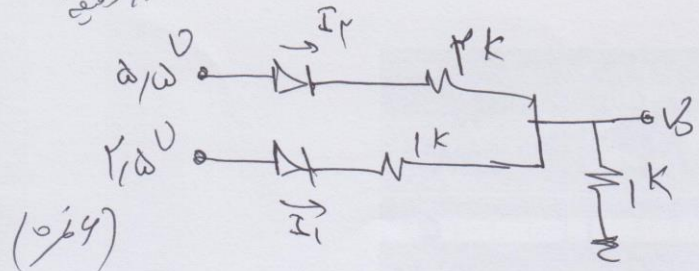
نام مدرس	رشته تحصیلی	نام درس	تعداد واحد	تعداد سوالات	تعداد صفحات	مدت امتحان
خسرو جلالی	کاردانی	الکترونیک عمومی				
استفاده از: مجاز است.						
آزمون تستی نمره منفی: دارد <input type="checkbox"/> ندارد <input type="checkbox"/>						
اطلاعات خواسته شده، دقیقاً کامل شود.						
فهم سوالات امتحانی، قسمتی از امتحان است؛ پس لطفاً سوال نفرمائید.						

این قسمت توسط مدرس تکمیل گردد.

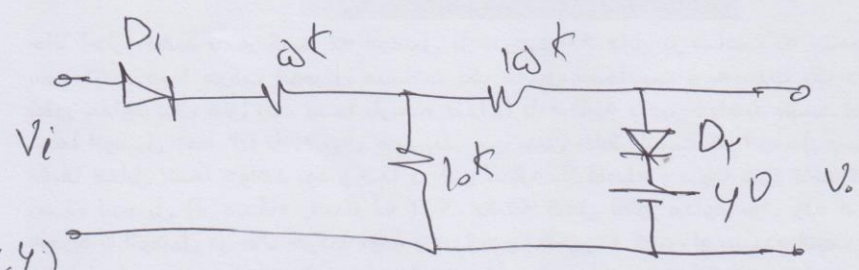
ردیف	نمره میان ترم	نمره عملی	نمره تئوری	نمره پایانی	امضاء استاد

د. سید علی،
الکترونیک عمومی
آزمون تکدرس
کاردانی
۴ دقیقه

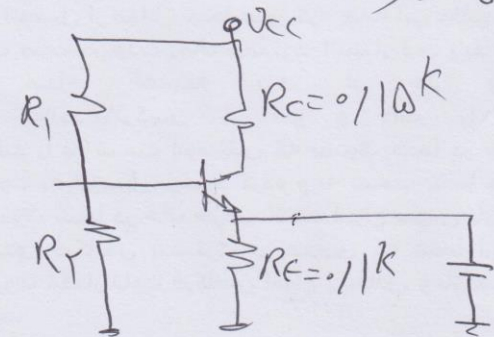
۱- مدار مقابل
سیدولت است؟



۲-



۳-



$\beta = 100$
 $V_{BE} = 0.7V$
 $I_C = 10mA$
 $R_1, R_2 = ?$

مطلوب رسم مدار با $V_{BE} = 0.7V$.

۴ دقیقه

۴- موفق باشید

سید علی