

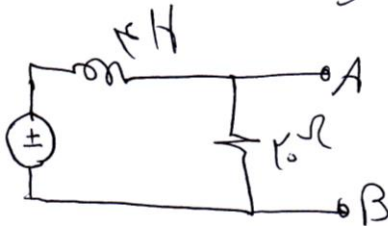
نام مدرس	رشته تحصیلی	نام درس	تعداد واحد	تعداد سئوالات	تعداد صفحات	مدت امتحان
خسرو جلالی		مدار ۲				
استفاده از: ..... مجاز است. آزمون تستی نمره منفی: دارد <input type="checkbox"/> ندارد <input type="checkbox"/>						
فهم سوالات امتحانی، قسمتی از امتحان است؛ پس لطفاً سوال نفرمائید.						

این قسمت توسط مدرس تکمیل گردد.

ردیف	نمره میان ترم	نمره عملی	نمره تئوری	نمره پایانی	امضاء استاد

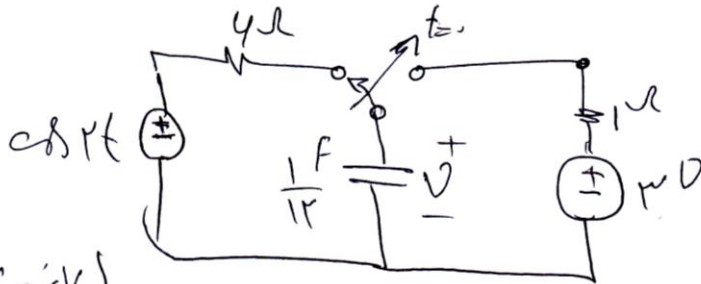
۱- رسم

۱۰۰ e as lot  
(۶ نمره)



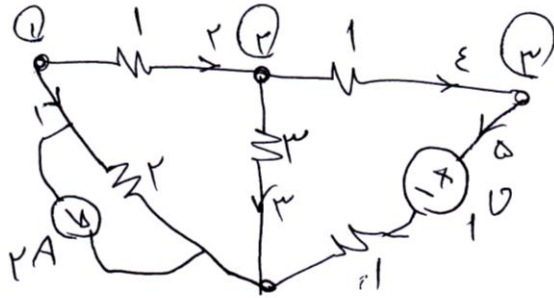
۱- مدار کون دو سر A و B را رسم کنید.  
(به روش مکانیک مثلث)

(۷ نمره)



۲- در مدار مقابل  $V(t)$  را بر اساس رمان‌ها رسم کنید.  
(روستر کنید یا بسازید)

(۷ نمره)



۳- گراف مدار مقابل را رسم کنید.  
سیر به روش تجزیه و تحلیل که مدار را حل کند.

صمیمانه ممنونم

۱۱ موفق باشید