



تاریخ امتحان:

شماره صندلی:

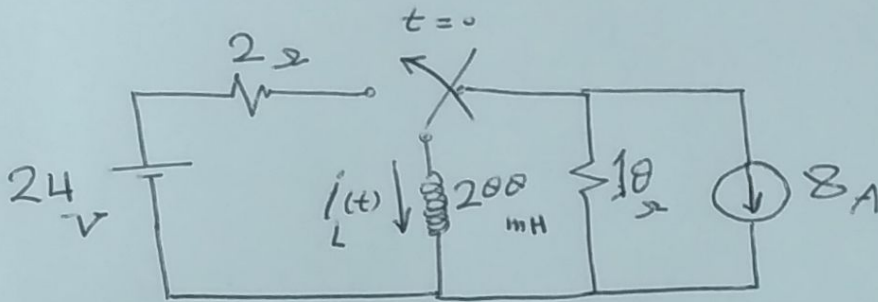
شماره دانشجویی:

نام و نام خانوادگی:

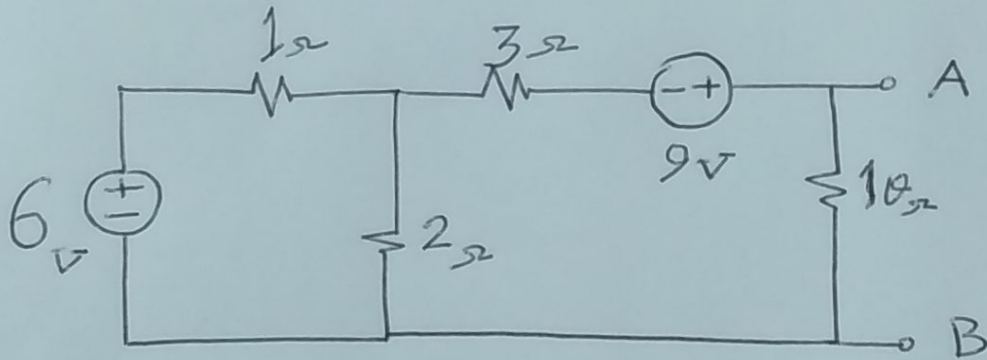
| | | | | | | |
|--|-------------|--------------------|--|--------------|-------------|------------|
| نام مدرس | رشته تحصیلی | نام درس | تعداد واحد | تعداد سوالات | تعداد صفحات | مدت امتحان |
| عباسپور | | مدارهای الکتریکی ۱ | | | | ۶۰ دقیقه |
| استفاده از: ماشین حساب مجاز است | | | آزمون تستی نمره منفی: دارد <input type="checkbox"/> ندارد <input type="checkbox"/> | | | |
| فهم سوالات امتحانی، قسمتی از امتحان است؛ پس لطفاً سوال نفرمائید. | | | | | | |

| | | | | | | |
|------|---------------|-----------|------------|-------------|-------------|----|
| ردیف | نمره میان ترم | نمره عملی | نمره تئوری | نمره پایانی | امضاء استاد | بج |
| | | | | | | |

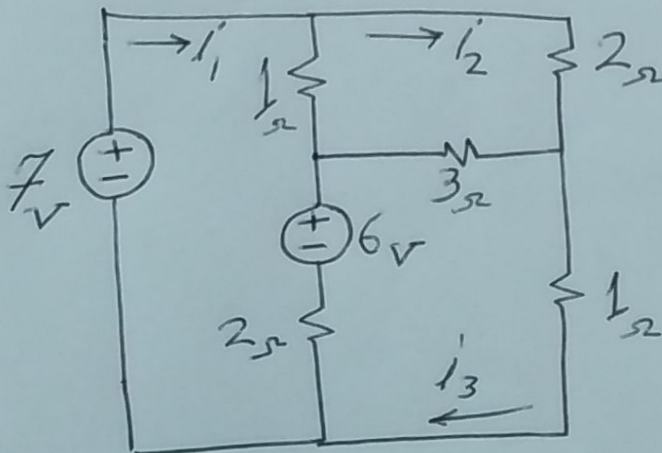
۱- در مدار زیر $i_L(t)$ را برای همه زمان‌ها بیابید:



۲- معادل تونن مدار زیر را از دو نقطه A و B بیابید:



۳- مطلوبت بحال به i_1, i_2, i_3 در مدار زیر:



موفق باشید عباسپور