



هو العليم

دانشکده فنی و حرفه‌ای محمودآباد

سوالات امتحان تکدرس - تابستان ۱۰۴۱

تاریخ امتحان:

شماره صندلی:

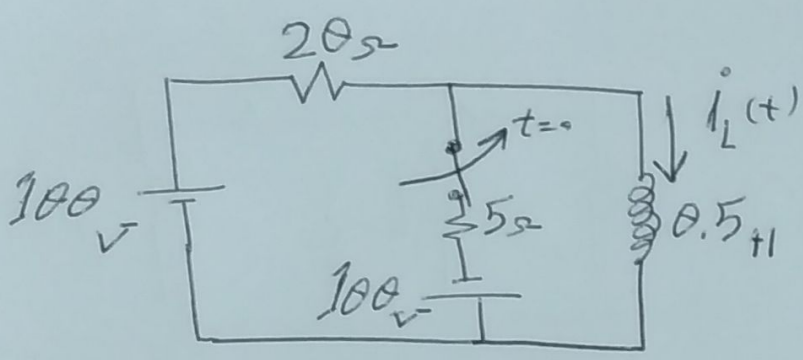
شماره دانشجویی:

نام و نام خانوادگی:

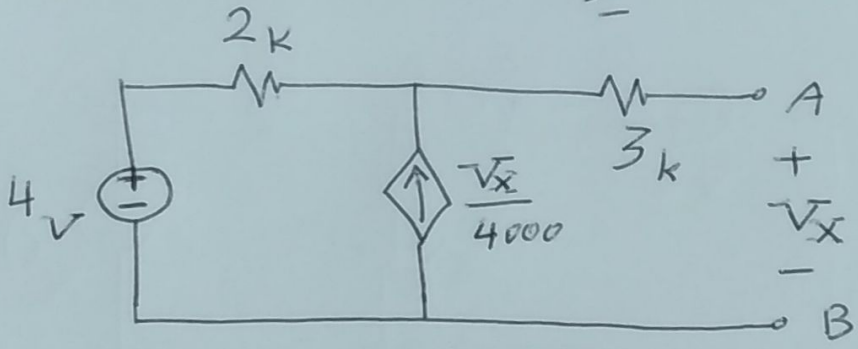
نام مدرس	رشته تحصیلی	نام درس	تعداد واحد	تعداد سوالات	تعداد صفحات	مدت امتحان
عباسپور		تحلیل مدارهای الکتریکی DC				۶۰ دقیقه
استفاده از: ماشین حساب مجاز است.						
آزمون تستی نمره منفی: دارد <input type="checkbox"/> ندارد <input type="checkbox"/>						
فهم سوالات امتحانی، قسمتی از امتحان است؛ پس لطفاً سوال نفرمائید.						

نام	نمره تئوری	نمره پابانی	اعضاء استاد

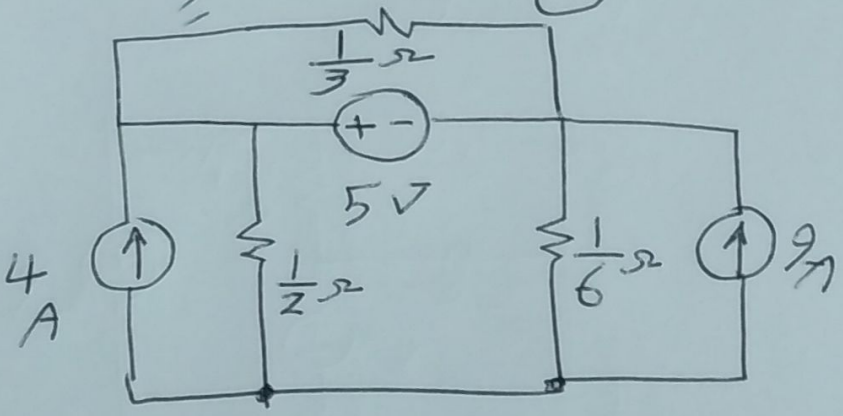
۱- کلید از مدت ها قبل بسته بوده است. مطلوبیت $i_L(t)$:



۲- مطلوبیت معادل تئوری مدار زیر:



۳- مطلوبیت محاسبه ولتاژ دو سر منابع جریان در مدار زیر:



موفق باشید عباسپور